

Bonjour à toutes et à tous,

Je reviens vers vous pour un travail de révision à effectuer.

Vous trouverez à la suite de ces consignes, un questionnaire de révision sur le thème 3 « Vallées et volcans, vivre dangereusement ? » qui vous permettra de revoir la matière vue en classe ainsi que les savoir-faire travaillés : « lire une image géographique » ; « utiliser des repères spatiaux » et « localiser un lieu, un espace et le situer par rapport aux repères définis (sur une carte de l'Europe, sur un planisphère, ...) ».


Aidez-vous de **votre cours** pour répondre aux différentes questions et d'**internet** pour la recherche des trois volcans.

Si vous avez des questions, n'hésitez pas à m'envoyer un mail (jonathanhanique@hotmail.com).

Bon travail, n'oubliez pas de relire votre cours et surtout de prendre le temps pour vous !

J. Hanique.

Document 1 : Vue du volcan Sinabung le 13 septembre 2010
Source : wikipedia




.....

.....

.....

Document 2 : Vue du volcan Pu'u 'Ō'ō et de sa coulée de lave en 2014 près du village Pahoia

- 1 = Volcan Pu'u 'Ō'ō
- 2 = Coulée de lave
- 3 = Village de Pahoia




.....

.....

.....

Document 3 : Quito au pied du volcan Cotopaxi
Source : <https://www.india.com/travel/articles/photos-of-quito-a-capital-city-on-the-foothills-of-the-mighty-andes-3227073/>



.....

.....

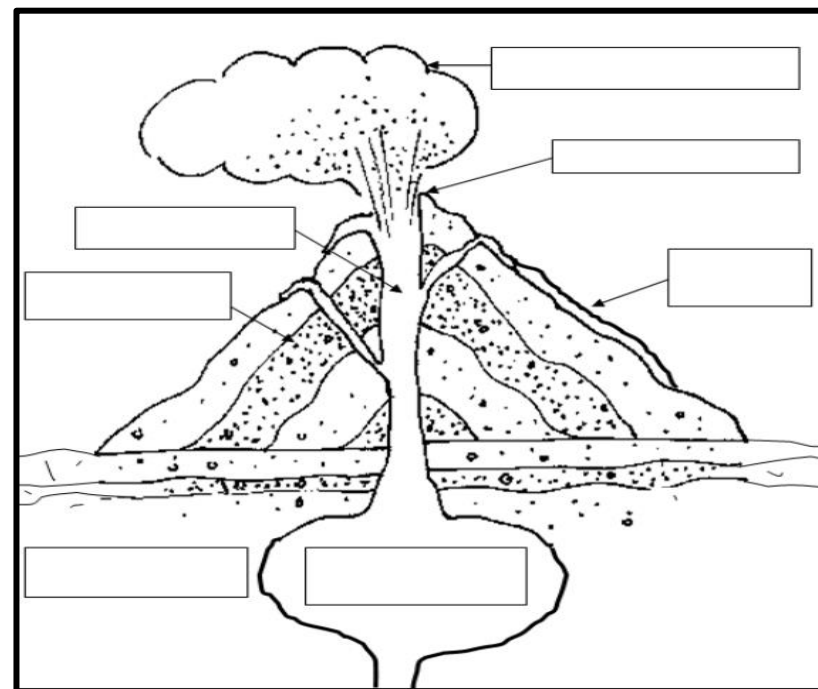
.....

1) Analyse le paysage des 3 documents

	Document 1			Document 2			Document 3		
Nature du document		
Angle de prise de vue		
Trace la ligne d'horizon et caractérise-la		
Replace les 3 plans sur les 3 documents									
Analyse du paysage									
	Avant-plan	Moyen-plan	Arrière-plan	Avant-plan	Moyen-plan	Arrière-plan	Avant-plan	Moyen-plan	Arrière-plan
Relief
Composantes naturelles									
Végétation
Absent/Présent
Type
Quantité
Hydrographie
Composantes humaines									
Végétation
Absent/Présent
Type
Quantité

Habitat
Absent/Présent
Groupé/Dispersé
Densité
Type d'espace
Voies de communication
Absent/Présent
Type (routes, chemins, ...)

- 2) Colorie en rouge le magma et la lave, en jaune le cône volcanique et en brun la croûte terrestre.
- 3) Complète le schéma à l'aide des cases vides.



4) Complète le tableau suivant à l'aide d'une recherche sur internet.

	Doc. 1	Doc. 2	Doc. 3
Lieu
Pays
Nom du volcan
Type de volcan et justification
Avantage(s) du volcan
Inconvénient(s) du volcan

5) Localise les différents volcans vus précédemment sur la carte du monde ci-dessous :

Consignes :

- ❖ Localise les 3 volcans ;
- ❖ Hachure (dans une couleur différente) le pays dans lequel il se trouve et nomme-le ;
- ❖ Entoure (dans une couleur différente) le continent dans lequel il se trouve et nomme-le ;
- ❖ Dessine la rose complète des vents en haut à droite ;
- ❖ Crée une légende reprenant les éléments ci-dessus ;
- ❖ Donne un titre à ta carte

Légende :



Titre :