

GÉOGRAPHIE

Nom :

Classe :

Date : / /

Prénom :

Évaluation

Savoirs : /

Sur le schéma

1. identifie :

- l'équateur : n° ...
- le cercle polaire Arctique : n° ...
- le pôle Sud : n° ...

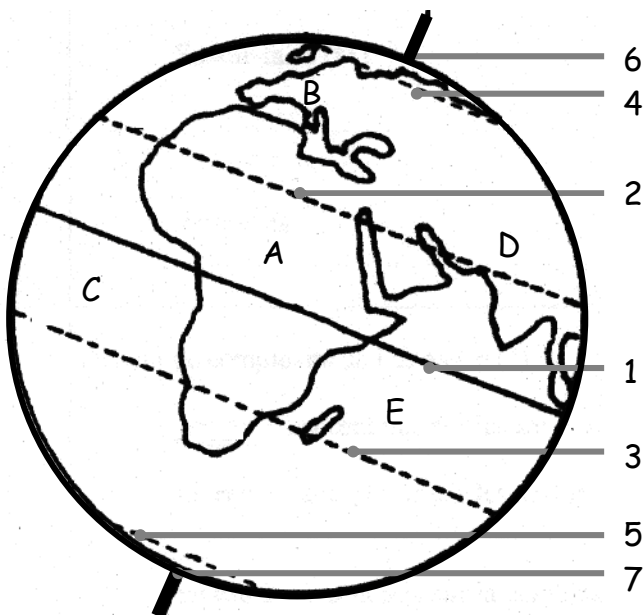
2. nomme les numéros suivants :

- n° 2 :
- n° 3 :
- n° 5 :

3. indique, par une flèche de couleur sur l'Equateur, le sens de rotation de la Terre ;

4. identifie les continents et les océans marqués d'une lettre dans la carte ci-dessous :

- A :
- B et D :
- C :
- E :



GÉOGRAPHIE

Nom :

Classe :

Date : / /

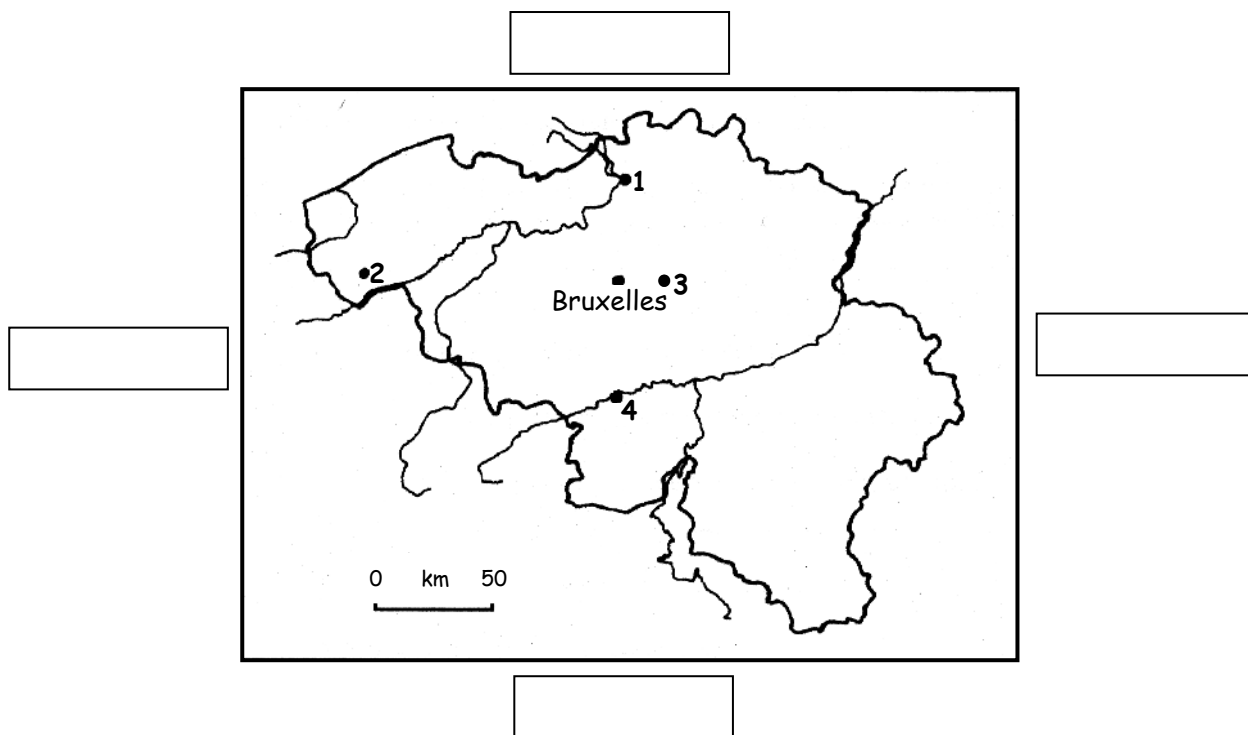
Prénom :

Évaluation

Savoirs :/.....

Savoir-faire : .../...

1. Note les directions cardinales dans les cases autour de la carte de la Belgique.



2. A l'aide de l'atlas, complète les tableaux et réponds aux questions suivantes.

▪ Tableau 1

	Nom de la ville	Directions cardinales	
La ville n° 1		est située	de Bruxelles
La ville n° 2		est située	de Bruxelles
La ville n° 3		est située	de Bruxelles
La ville n° 4		est située	de Bruxelles

- Tableau 2

Nom des pays limitrophes de la Belgique (qui touchent la ...)	Directions cardinales par rapport à Bruxelles

- Sur la carte, que représente le segment de droite gradué en km ?
.....
- Sur quel cours d'eau est située la ville n° 4 ?
.....
- Indique, sur la carte, le nom de la mer située au Nord-Ouest de la Belgique.

GÉOGRAPHIE

Nom :

Classe :


Date : / /

Prénom :

Évaluation

Savoirs : /

Associe chaque mot à sa définition (chaque mot ne peut être utilisé qu'une seule fois).



Représentation la plus fidèle de la Terre sous forme de sphère	
Grande étendue de terre émergée	
Corps céleste qui gravite autour d'une planète	
Astre gazeux qui possède sa propre énergie et diffuse sa propre lumière	
Enveloppe gazeuse qui entoure la Terre	
Amas de gouttelettes d'eau ou de petits cristaux de glace en suspension dans l'atmosphère	
Astre sans lumière propre qui, en plus de tourner sur lui-même, gravite autour du Soleil	
Vaste étendue d'eau salée	
Etoile la plus proche de la Terre	
Ensemble constitué par le Soleil et les astres qui gravitent autour de ce dernier	

GÉOGRAPHIE

Nom :

Classe :

Date : / /

Prénom :

Évaluation

Savoirs :/.....

Savoir-faire : .../...

" Vignobles dans les environs de Strasbourg"

www.alsace-vignoble.be




1. A l'aide de l'atlas, localise le lieu où se situent ces vignobles en indiquant le nom :
 - du pays :
 - du continent :

2. Trouve la carte qui représente cette activité agricole pour l'espace considéré.
Précise :

- la page :
- le titre de la carte :

3. Dessine le symbole du vignoble utilisé dans la légende.



4. Souligne ce que ce symbole représente.

Un élément de la légende qualitative


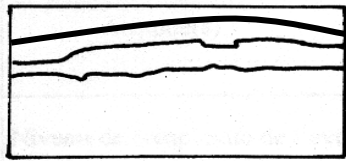
Un élément de la légende quantitative

5. Analyse le paysage.

a) Souligne le terme exact qui qualifie :

- la ligne d'horizon : rectiligne - ondulée - brisée - absente
- l'angle de prise de vue : horizontal - oblique - vertical

b) Coche le schéma qui correspond à une délimitation correcte des plans du paysage.



c) Sur un calque :

- délimite les grandes zones du paysage,
- colorie chaque zone à l'aide de la légende du tableau.

Colle le calque ci-dessous.

d) Complète le tableau en indiquant, pour chaque plan, le ou les éléments dominants du paysage.

Les zones				Légende (pour le calque)
Zones vertes				Vert
Zones habitées				Rouge
Zones industrielles				Mauve
Zones agricoles				Jaune
Voies de communication				Noir
Voies et plans d'eau				Bleu
Zones de services (commerces, bâtiments publics,...)				Rose

e) Souligne parmi les propositions ci-dessous celle qui caractérise le type d'espace auquel ce paysage appartient.

Espace urbain - espace rural - espace industriel - espace mixte - autres

f) Justifie ta réponse.

.....

GÉOGRAPHIE

Nom :

Classe :

Date : / /

Prénom :

Évaluation

Savoir-faire : /

« Je suis un archipel du Pacifique Nord composé de quatre grandes îles et d'un millier de petites îles. Mon pays est baigné à l'Ouest par sa mer et à l'Est par l'Océan Pacifique et il s'étend en arc de cercle sur près de 2 700 kilomètres. Ses centres économiques et urbains ont été construits sur des plaines étroites qui s'ouvrent sur la mer. Voici le nom de quelques grandes villes : Kobe, Osaka, Hiroshima. »

1. Quel est le nom du pays ?
2. Quel est le nom de la capitale ?
3. Dans quel continent ce pays est-il situé ?

« Mon pays, situé dans l'hémisphère Sud, possède un climat tropical. On y extrait des métaux tels l'argent, l'étain et le cuivre, et une large partie du territoire est recouverte de forêts. Mes grands lacs tels que le Titicaca et le Poopo attirent des touristes avides de grands espaces. »

1. Quel est le nom du pays ?
2. Quel est le nom de la ville la plus peuplée ?
3. Dans quel continent ce pays est-il situé ?

GÉOGRAPHIE

Nom :

Classe :

Date : / /

Prénom :

Évaluation

Savoirs :/.....

Savoir-faire : .../...

1. Dans les cadres sur les côtés de la carte, indique les directions cardinales.
2. Sur la carte, repasse le cercle polaire en bleu.
3. Repasse en vert la ligne imaginaire qui sépare Prague de Vienne.

Quel est le nom de cette ligne ?

Dans quel pays sont situées ces deux villes :

- Prague :

- Vienne :

A quel continent appartiennent ces deux villes ?

Quel autre continent est également représenté sur la carte ?

4. Quel est le nom du fleuve qui traverse Vienne ?

Dans quelle mer se jette-t-il ?

5. Complète ces phrases à l'aide des directions cardinales:

- Londres est de Paris.
- Madrid est de Paris.
- Milan est de Paris.
- Vienne est de Paris.
- Hambourg est de Paris.

6. Donne un titre à la carte et note-le dans le cadre.

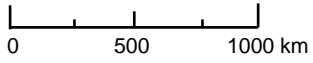
Titre :

.....



.....

.....



.....

GÉOGRAPHIE

Nom :

Classe :

Date : / /

Prénom :

Évaluation

Savoir-faire : /

Questions	Outil(s) utilisé(s)	Carte(s) consultée(s)	Réponse(s)
Dans quel pays est située la ville de Darwin ?			
Dans quel continent est situé le Surinam ?			
Quelles sont les villes les plus peuplées d'Afrique ?			
Combien y a-t-il d'habitants à Munich ?			
Quelles industries trouve-t-on dans la région de Bordeaux ?			
Cite les deux principales régions géographiques de Belgique où on cultive la betterave sucrière ?			•

GÉOGRAPHIE

Nom :

Classe :

Date : / /

Prénom :

Évaluation

Savoirs :/.....

Savoir-faire : .../...

Doc.1. La Crète



1. Classe les éléments du paysage.

Éléments naturels	Éléments humains

2. Qualifie cet espace.

.....

3. Le paysage révèle deux fonctions principales, lesquelles ?

.....

.....

4. Dans quel pays est situé la Crète ?

.....

5. Quelle(s) mer(s) borde(nt) cette région ?

.....