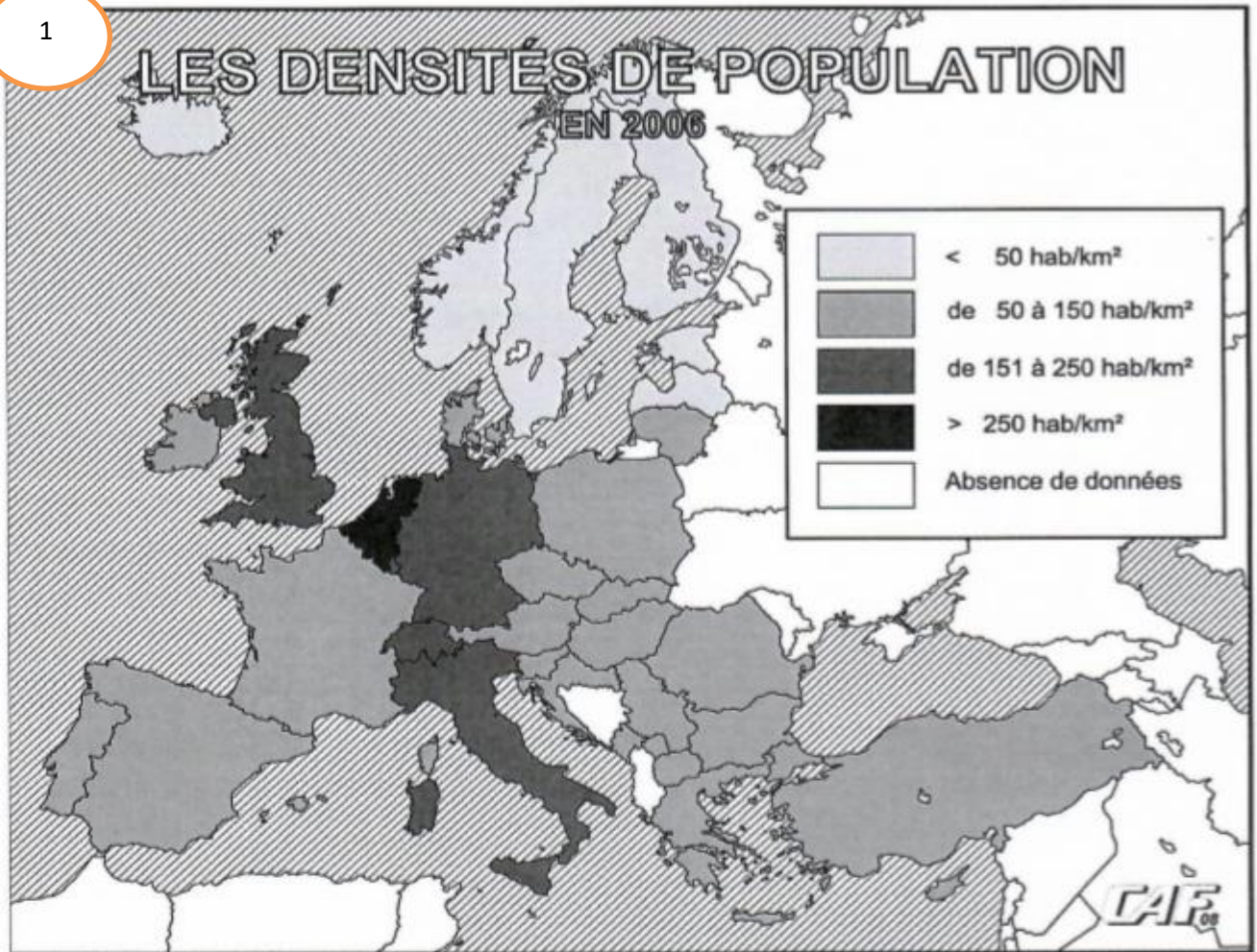


## Exercices 4<sup>ème</sup> générale

### Exercice 1

1



1. Dans quelle catégorie ou classe de densité se situe la Belgique ?

.....

2. Les valeurs de cette catégorie correspondent-elles à la réalité ? Justifie ta réponse.

.....

3. Quelles sont les pays qui ont la plus forte densité de population ?

.....

4. Quel pays bordant la Méditerranée est le plus densément peuplé ?

.....

5. L'Espagne a-t-elle une densité de population inférieure, supérieure ou égale à celle de la Grèce ?

.....

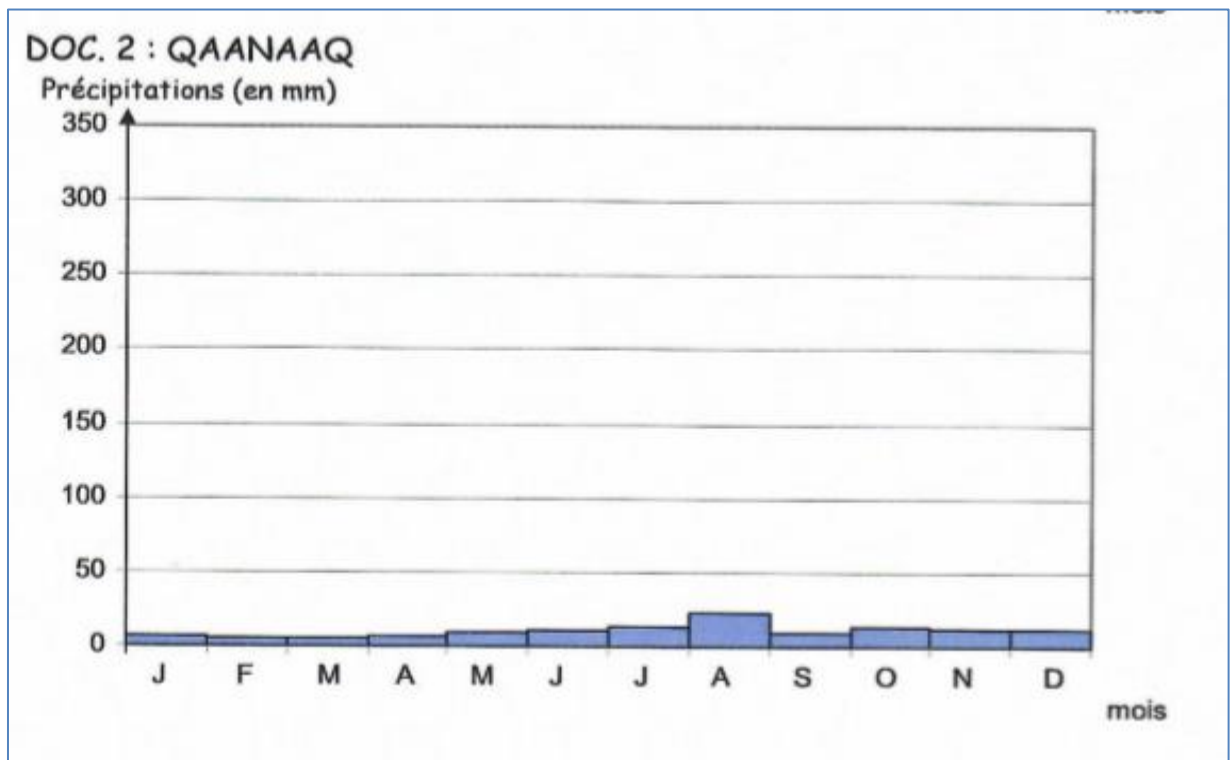
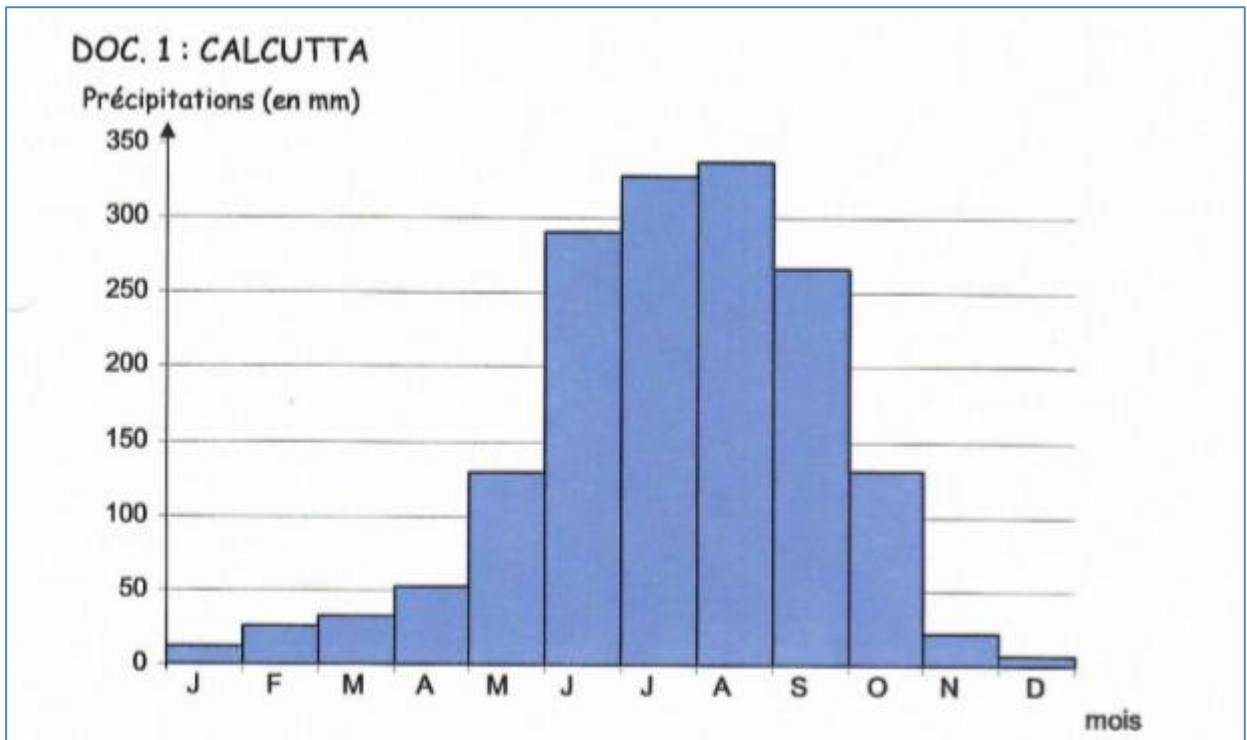
## Exercice 2

« Chasse l'intrus »= barre, dans chaque phrase, la proposition fausse.

1. **Les principaux foyers de population mondiaux sont situés :**
  - a) En Asie du Sud
  - b) En Asie de l'Est
  - c) Dans l'hémisphère Sud
  - d) Dans l'hémisphère Nord
  - e) En Europe Occidentale
  
2. **Les foyers de population sont souvent situés à proximité :**
  - a) Des mers et des océans
  - b) En –dessous de 200m d'altitude
  - c) Entre 200 et 1000m d'altitude
  - d) Au-dessus de 4000m d'altitude
  
3. **Les zones polaires sont peu hospitalières à cause d'un froid excessif ayant pour principale origine :**
  - a) La latitude
  - b) L'altitude
  
4. **La haute montagne est défavorable à l'installation des humains à cause :**
  - a) Des pentes raides
  - b) De la température élevée
  - c) De la rareté de l'air
  
5. **Les foyers de population mondiaux se rencontrent souvent dans des zones climatiques :**
  - a) Intertropicales
  - b) Tempérées
  - c) Polaires
  
6. **Des facteurs favorables à l'installation des humains sont :**
  - a) L'altitude faible
  - b) L'amplitude thermique faible
  - c) L'éloignement des mers
  
7. **Des atouts pour l'installation de la population sont :**
  - a) Des températures élevées
  - b) Une amplitude thermique importante
  - c) Des précipitations abondantes
  
8. **La Belgique est fortement peuplée, elle est d'ailleurs localisée :**
  - a) Dans le foyer de population européen
  - b) Dans la zone tempérée de l'hémisphère Nord
  - c) Dans une région d'altitude élevée

### Exercice 3

1. A l'aide de la carte physique ou politique du monde, recherche le pays auquel appartiennent les deux stations :
  - Calcutta : .....
  - Qaanaaq : .....
2. Colorie sur le planisphère en fin de questionnaire, ces deux pays d'une couleur différente et établie la légende.
3. Lis les graphiques.



**Calcutta**

- a) Quelles sont les quatre mois les plus arrosés ?  
.....
- b) Entre quelles valeurs se situent les précipitations durant cette période ?  
.....
- c) Quelles sont les quatre mois durant lesquelles les précipitations sont très faibles ?  
.....
- d) Quelle quantité d'eau tombe-t-il au maximum par mois durant cette période ?  
.....
- e) Estime en mm/an le total de précipitations à Calcutta.  
.....
- f) Sachant qu'en Belgique le total de précipitations est d'environ 800mm/an, en un mot, caractérise les précipitations annuelles à Calcutta.  
.....

**Qaanaaq**

- a) Quelle est la période durant laquelle les précipitations sont très faibles ?  
.....
- b) Quelle quantité d'eau tombe-t-il au maximum par mois durant cette période ?  
.....
- c) Estime en mm/an le total de précipitations à Qaanaaq.  
.....

**4. Nomme le foyer de population ou le désert humain auquel appartiennent :**

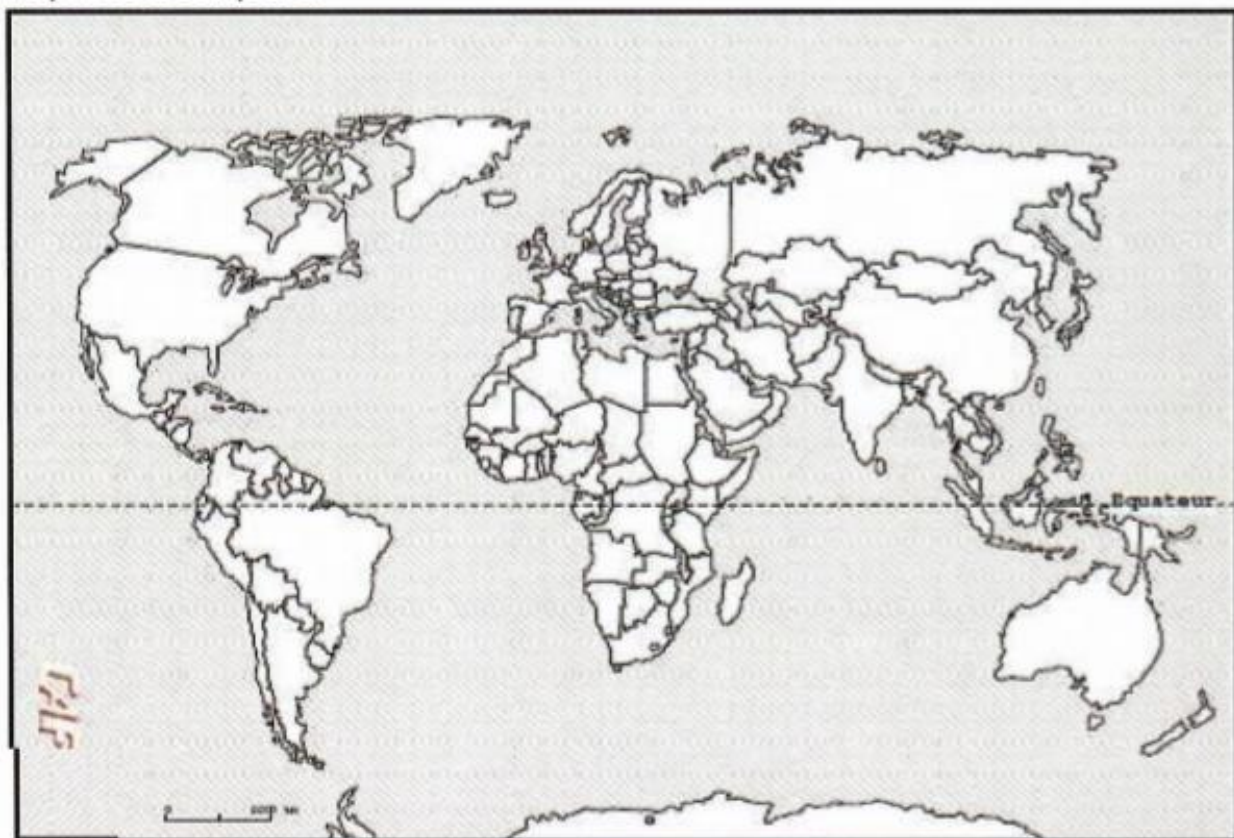
- Calcutta : .....
- Qaanaaq : .....

**5. Localise le foyer de population et le désert humain sur le planisphère ci-dessous en les entourant avec deux couleurs différentes. N'oublie pas de compléter la légende.**

**6. Pour ceux deux ville, les précipitations constituent-elles un atout ou une contrainte à l'installation des humains. Justifie ta réponse.**

- .....  
.....  
.....  
.....
- .....  
.....  
.....  
.....

## Planisphère à compléter



### Légende



## Exercice 4

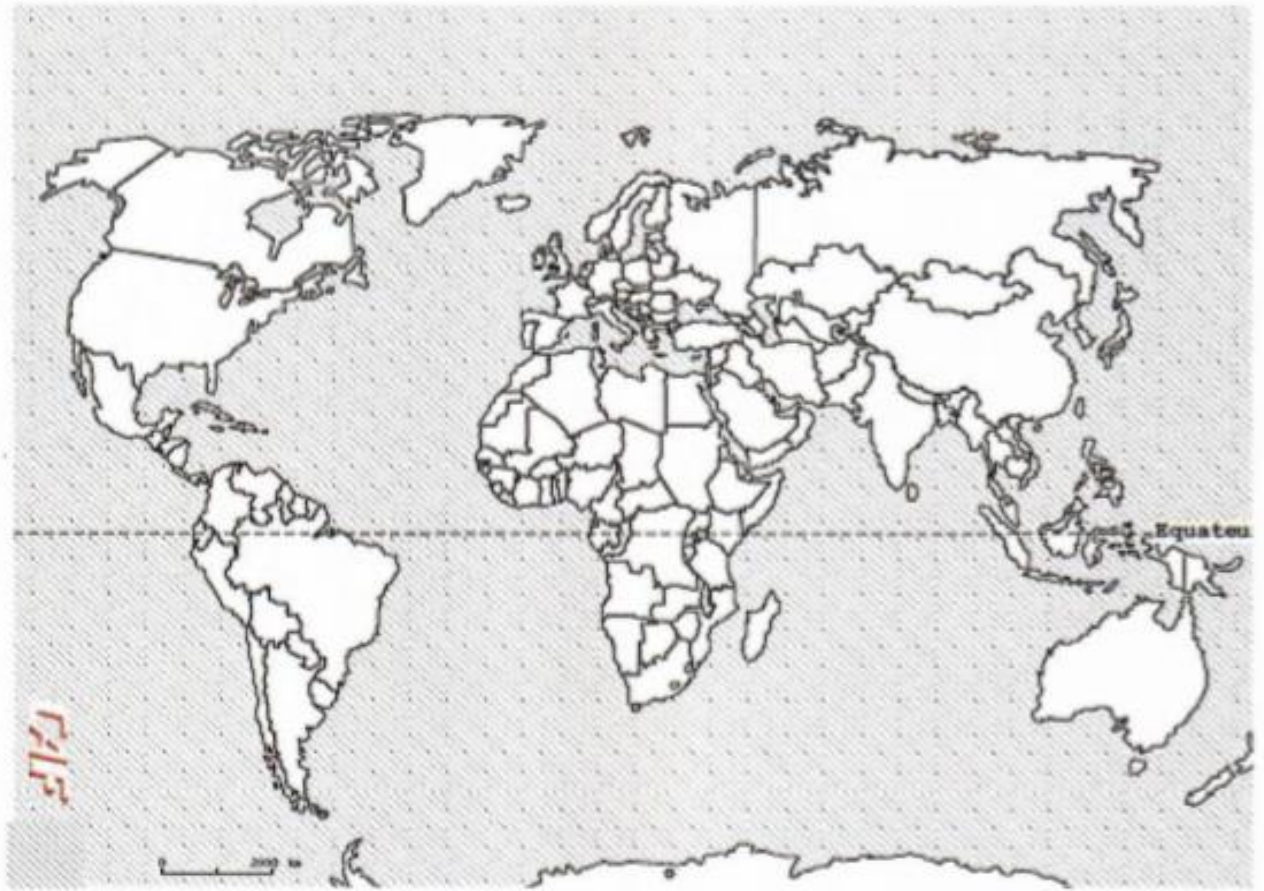
### Doc. 1 Types des paysages



#### 1. Complete la carte ci-dessous :

- Localise les six paysages géographiques (à l'aide de leur chiffre)
- Localise les foyers de populations et les déserts humains (voir la carte dans le cours)
- Réalise une légende
- Donne un titre à la carte

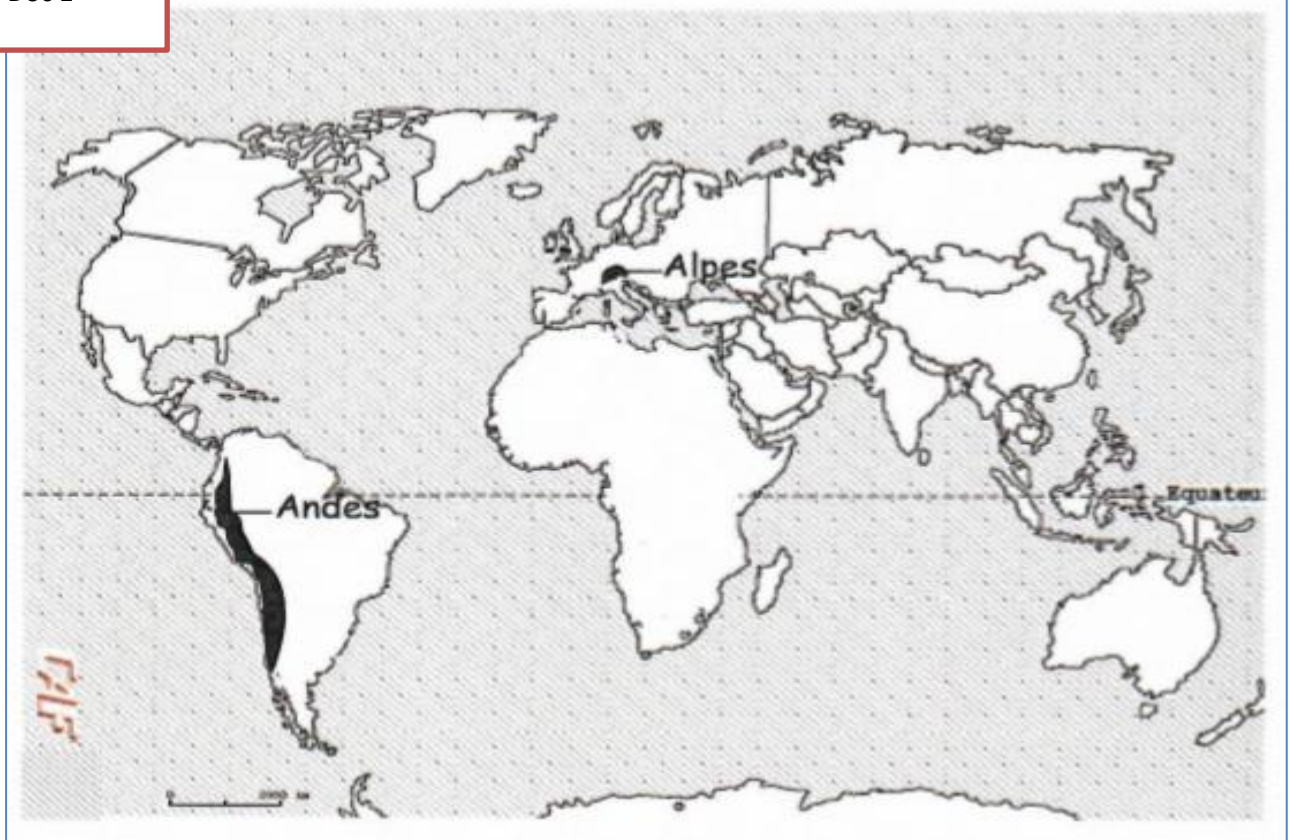
TITRE :




Légende

## Exercice 5

Doc 1

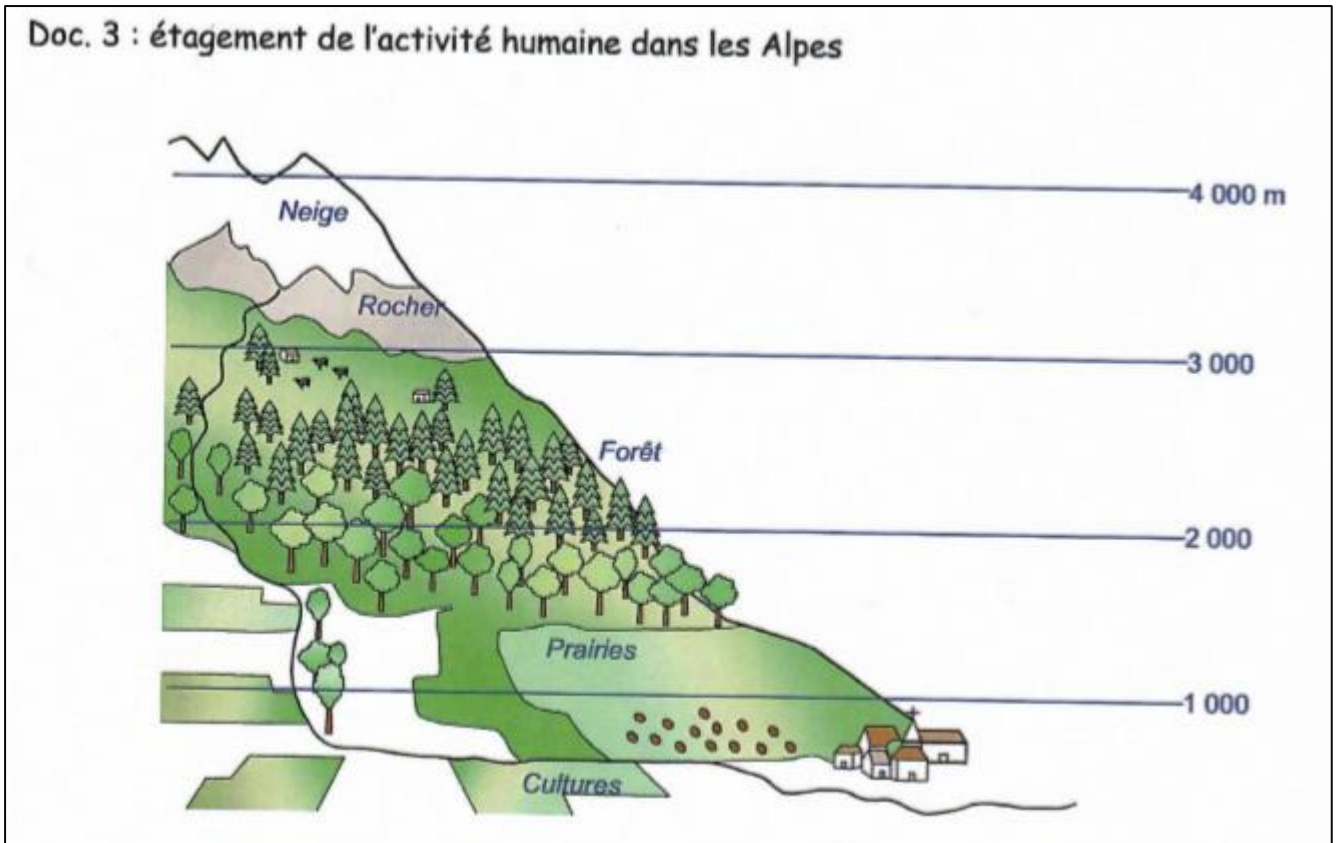


Doc. 2 : étagement de l'activité humaine dans les Andes (sud du Pérou)





Doc. 3 : étagement de l'activité humaine dans les Alpes



**Questions**

1. Ces deux schémas représentent des montagnes. Prouve par deux éléments des schémas qu'il s'agit bien de montagnes.

.....  
.....  
.....

2. L'étagement des cultures et de l'habitat est-il le même dans ces deux chaînes de montagnes ? Illustre ta réponse à l'aide de données chiffrées.

.....  
.....  
.....  
.....  
.....

3. Quels sont les trois facteurs (éléments) qui, combinés, font que l'altitude élevée est une contrainte pour les activités humaines ?

.....  
.....  
.....

4. Explique pourquoi l'altitude qui est une contrainte dans les Alpes se transforme en atout dans les Andes ?

.....

.....

.....

.....

.....

.....

## Exercice 6

### Object de l'exercice : Densité de population

#### 1. Complete le tableau ci-dessous.

Pays	Population en .....	Superficie en .....	Densité de population en .....
Belgique	10 000 000	30 000	
U.S.A.	300 000 000	9 400 000	

#### 2. Entoure les bonnes propositions :

- Par rapport aux U.S.A., la population de la Belgique est environ  
3 X            30 X            300 X            plus petite            plus grande
- Par rapport aux U.S.A., la densité de population de la Belgique est :  
6 X            8 X            10 X            12 X            14 X            plus petite            plus grande
- Par rapport aux U.S.A, la Belgique est :
  - ✓ peu peuplée
  - ✓ moyennement peuplée
  - ✓ très peuplée
  - ✓ densément peuplée

## Exercice 7

### Objet de l'exercice : Zones climatiques – Foyers de population – Déserts humains

1. Sur la carte ci-dessous :

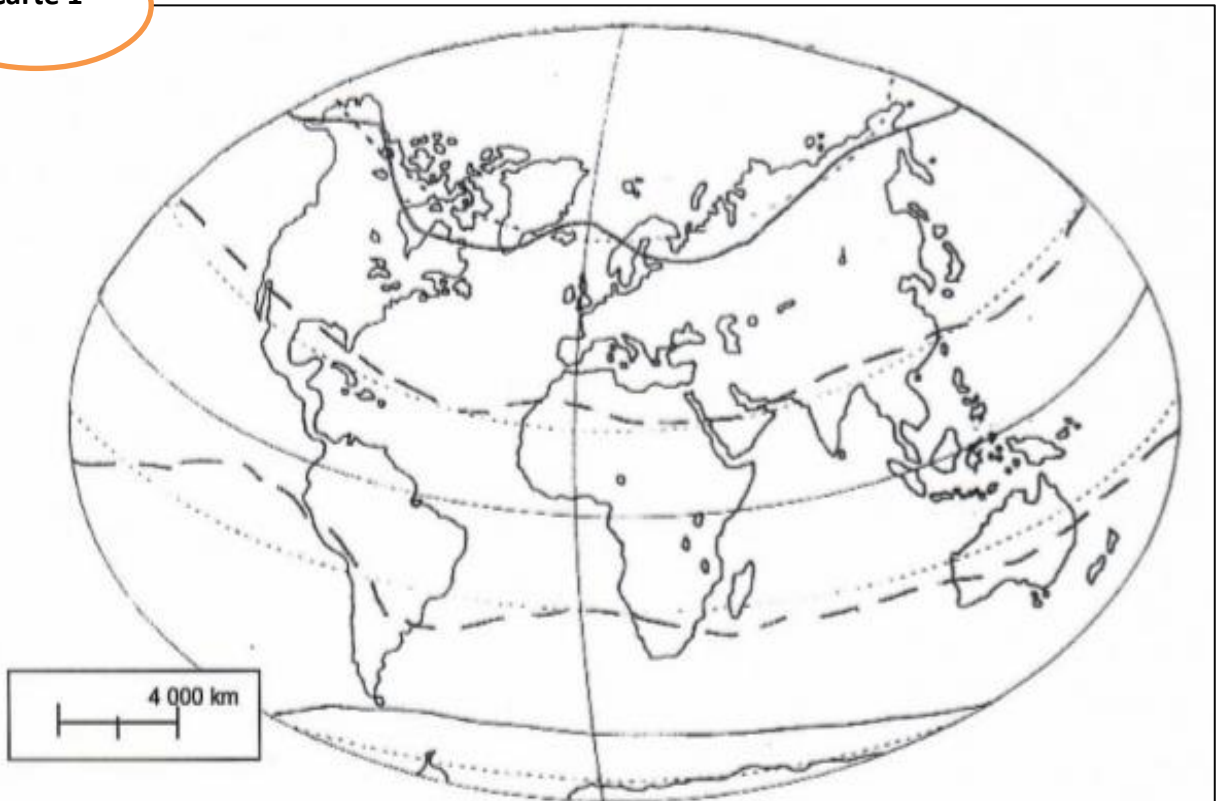
a) **Situe et indique :**

- Les zones climatiques
- Le cercle polaire Arctique
- Le tropique du Cancer
- L'hémisphère sud
- Le méridien Greenwich

b) **Localise les régions suivantes :**

- Sahara (1)
- Golfe de Guinée (2)
- Indonésie (3)
- Région polaire Antarctique (4)
- Japon (5)

Carte 1



Légende



2) **Complète le tableau ci-dessous en indiquant :**

- Si la région est un foyer de population ou un désert humain (faire une croix dans la bonne case) ;
- La zone climatique à laquelle la région appartient
- Deux repères spatiaux et les directions cardinales correspondants pour chaque région.

Régions	Foyers de population	Désert humains	Zones climatiques	Repères spatiaux et les directions cardinales (N, S, E, O etc.)
Golfe de Guinée				
Indonésie				
Japon				
Sahara				
Région polaire Antarctique				

2. Sur la carte, hachure en bleu la zone climatique à laquelle appartient l'Europe.  
Quel est son nom ?